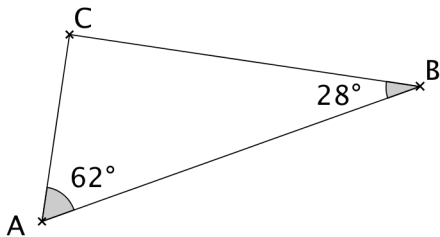


Activités mentales :

Angles dans un triangle 2

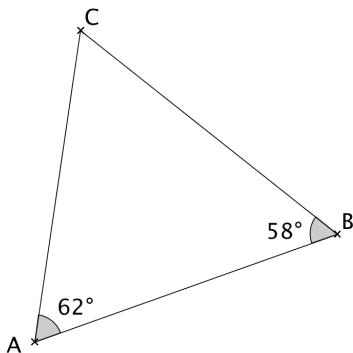
Dire si les affirmations suivantes sont **vraies** ou **fausses**.

Question 1



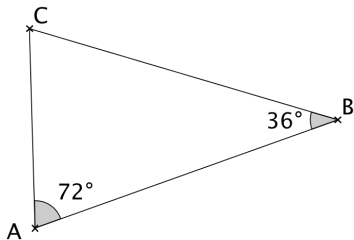
Le triangle ABC est rectangle.

Question 2



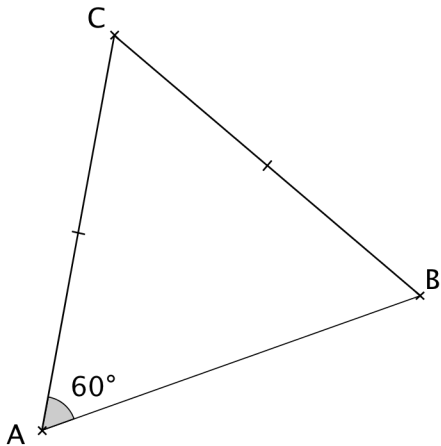
Le triangle ABC est équilatéral.

Question 3



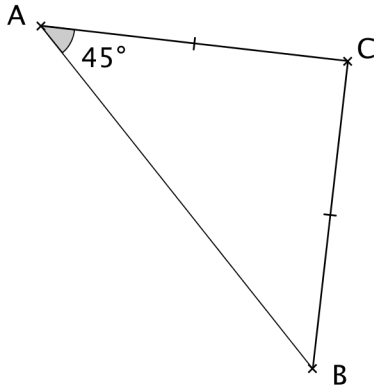
Le triangle ABC est isocèle.

Question 4



Le triangle ABC est équilatéral.

Question 5



Le triangle ABC est rectangle.